



SINDHI HIGH SCHOOL, BENGALURU  
ANNUAL EXAMINATION 2025-26  
SUBJECT: ENGLISH

Class: IV  
Date: 23.3.2026  
No of Sides: 6

Max Marks: 60  
Reading Time: 15 mins  
Writing Time: 2hr 15mins

**GENERAL INSTRUCTIONS:**

- This question paper consists of 3 sections: A, B and C.
- Section A: Reading.
- Section B: Writing and Grammar.
- Section C: Literature.

Attempt all the questions and adhere to the word limit.

Q. no	Section A (Reading)
Q1	<p>Read the passage carefully and answer the questions that follow: (8x1=8M)</p> <p style="text-align: center;"><b>The Secret of the Old Banyan Tree</b></p> <p>In the middle of Meera's village stood a huge old banyan tree. Its branches spread wide like giant arms, giving shade to people and animals. Birds built their nests on its strong branches, and children loved to play around it. (Para 1)</p> <p>One summer, a group of builders came to the village. They wanted to cut down the banyan tree to build a parking lot. Some villagers agreed because they thought it would make life easier.</p> <p>Meera felt upset. She remembered how her grandfather used to tell her that the banyan tree was more than a tree — it was home to many living creatures. It kept the air cool and clean. It also prevented soil from washing away during heavy rains. (Para 2)</p> <p>Meera and her friends decided to act. They made posters saying, "Save Our Tree" and explained to the villagers how trees give us oxygen, fruits, shade, and shelter to birds and animals. The villagers soon realized their mistake. They cancelled the plan to cut the tree. Instead, they decided to plant more trees around the village. From that day, Meera understood that protecting nature is everyone's responsibility. (Para 3)</p> <p><b>1. Where was the banyan tree located?</b></p> <p>a) In the forest b) Near Meera's house c) In the middle of the village d) Near the river</p> <p><b>2. Why did the builders want to cut down the tree?</b></p> <p>a) To build a school b) To build a parking lot c) To make furniture d) To widen the road</p>

3. What does the banyan tree provide?

- a) Shade and shelter
- b) Gold and silver
- c) Toys for children
- d) Electricity

4. How did Meera and her friends try to save the tree?

- a) They ignored the problem
- b) They cut other trees
- c) They made posters and explained the importance of trees
- d) They left the village

5. What lesson does the story teach us?

- a) Trees are not useful
- b) Nature should be protected
- c) Builders are always wrong
- d) Villages need parking lots

(1 x 2=2M)

6. Fill in the blanks.

- a) It kept the air cool and clean. It also \_\_\_\_\_.
- b) They made posters saying, "Save Our Tree" and explained to the villagers how \_\_\_\_\_.

(1/2 x 2=1M)

7. Find the synonyms of the given words from the passage.

- a) something that is your job or duty to deal with (Para3)
- b) stopped something from happening (Para 2)

Q2

Read the passage carefully and answer the questions that follow: (8Mx1=8M)

### The Day the River Spoke

In the town of Sundarpur, a small river flowed quietly behind the houses. Long ago, the river was clean and sparkling. Children splashed in its cool water, and fishermen caught healthy fish every morning. Farmers used river water to grow crops and water their fields. Rivers provided homes for fish, birds, and other animals. But things slowly changed. People began throwing plastic bags, bottles, and leftover food into the river. Some shopkeepers even dumped waste behind their stores. Over time, the water turned muddy and smelly. The fish disappeared, and mosquitoes began to breed near the dirty banks. (Para 1)

One evening, twelve-year-old Kabir sat near the river with his grandfather. "Dadaji," he said sadly, "why does the river look so sick?" Grandfather sighed. "The river is like a friend. If we care for it, it stays healthy. If we hurt it, it suffers." That night, Kabir had a strange dream. The river appeared before him and said, "I give you water to drink and help your crops grow. Why do you fill me with garbage?" Kabir woke up feeling determined. The next morning, he gathered his friends, they decided to take action. They visited the local municipal office and

explained how littering was harming the river. They also went door to door, requesting people to use dustbins and reduce plastic use. The children organized a "River Rescue Day." With gloves and masks, they cleaned the riverbank. Their science teacher explained how plastic waste blocks the flow of water and pollutes it. (Para 2)

Gradually, the townspeople realized their mistake. Dustbins were placed near the river, and strict rules were made against littering. Within months, the river began to look cleaner. Birds returned, and small fish could be seen swimming again. Kabir smiled. He had learned that nature speaks softly—but we must listen carefully.

(Para 3)

**1. What happened to the river over time?**

- a) It became wider
- b) It became cleaner
- c) It became dirty and smelly
- d) It dried up

**2. Why did mosquitoes breed near the river?**

- a) Because it was clean
- b) Because the water was polluted
- c) Because it was winter
- d) Because fish were swimming

**3. What made Kabir decide to take action?**

- a) His teacher's homework
- b) His grandfather's scolding
- c) His dream about the river
- d) A newspaper article

**4. What did the children do to solve the problem?**

- a) Ignored the river
- b) Organized a River Rescue Day and spread awareness
- c) Built a bridge
- d) Played near the river

**5. What lesson do we learn from the story?**

- a) Rivers can clean themselves
- b) Littering has no effect
- c) We must care for nature and act responsibly
- d) Only adults can protect the environment

**6. Fill in the blanks.**

(1M x 2=2M)

- a) Their science teacher explained how \_\_\_\_\_
- b) He had learned that nature speaks softly—but \_\_\_\_\_

**7. Find antonyms (opposite) of the given words from the passage: (1/2 x 2=1M)**

a) unhealthy (Para1)

b. disorganised (Para2)

Q3

**Section B: Grammar and Writing**

Write a letter to your friend about the school trip that you enjoyed. (4 M)

OR

Write a story on the below given clues, create a suitable title and conclude with a proper moral (within 150 words)

The students of Class IV were excited about the upcoming Inter-House Poster Making Competition "Save Earth" theme.....divided into groups of four. Anaya loved drawing, Rishi was good in colouring, Mehul had neat handwriting and Sara had many creative ideas..... everyone wanted their own ideas to be used. Soon they started arguing loudly..... time was ticking.....

Q4

Do as directed:

Identify the nouns in the sentence.

(1/2M x4=2M)

- a) 1. A boy runs and laughs in the park. He kicks a ball and rests near a bench.

b) Rewrite the underlined words using suitable pronoun:

(1/2M x4=2M)

1. Aman found a wallet.
2. My friends and I are going to the museum.
3. The teacher called Riya and me.
4. These books belong to the children.

c) Identify the adjectives in the given lines.

(1M x 4=4M)

Children in bright raincoats play,  
Jumping in muddy puddles all day.  
Fresh green leaves shine in the light,  
After the long and stormy night.

d) Fill in the blanks with appropriate prefix or suffix.

(1/2M x 8=4M)

It was Mia's birthday. Her little brother was being (a) \_\_\_\_\_ (help) and carried her gifts to the table. Mia's mom was very (b) \_\_\_\_\_ (care) while decorating the cake so nothing would fall. Suddenly, it started raining (c) \_\_\_\_\_ (heavy) and Mia felt a little (d) \_\_\_\_\_ (happy). "Don't worry," said her dad, "we can have fun filled (e) \_\_\_\_\_ (door) games!" After some fun games, everyone felt (f) \_\_\_\_\_ (joy) and thanked Mia for the party. Mia smiled and thought, "What a (g) \_\_\_\_\_ (wonder) day!" She was so tired and soon fell (h) \_\_\_\_\_ (sleep)

- e) Meera is a bright student. She always listens carefully in class. She answers questions confidently. (Identify the adverbs) (1M x 2=2M)

- 7) **Fill in the blanks with suitable articles** (1/2M x4=2M)  
Last Sunday, Meena visited (a) \_\_\_ museum with her parents. At the entrance, she saw (b) \_\_\_ large dinosaur model. It was (c) \_\_\_ amazing sight. Inside, there was (d) \_\_\_ guide who told them about past history of the place.

**Section C: Literature**

- Q5 **1. Read the extract and answer the questions: -** (1M x4=4M)

'Softly, softly, he crept on padded feet to the enclosure next to him. He grinned in at the bear....He looked in at all the cages and thought how wonderful it was to be free.'

- a) **Who does the word "he" refer to in the extract??**

- i) the bear  
ii) The Zookeeper  
iii) the lion  
iv) a visitor

- b) **How did the lion move to the next enclosure?**

- i) He ran quickly.  
ii) He crept softly on padded feet  
iii) He jumped loudly  
iv) He roared as he walked.

- c) **What does the word "Enclosure" mean?**

- i) dry waste land  
ii) lifted or pulled  
iii) an area of land surrounded by a wall or fence  
iv) a store house

- d) **Why did the lion think it was wonderful to be free?**

- i) He could eat more food.  
ii) He could scare the visitors  
iii) He was no longer inside a cage  
iv) He wanted to sleep outside.

- 2. Read the extract and answer the questions: -** (1M x4=4M)

"Perhaps he meant for me to see  
What other people miss."

- a) **The above poem is written by \_\_\_\_\_**

- i) James Carter    ii) Barbara Bodine    iii) Valerie Bloom    iv) Ruskin Bond

- b) **The word "he" refers to \_\_\_\_\_**

- i) friend  
ii) A special person close to the speaker  
iii) God  
iv) a stranger

- c) **God has made her that way....**

- i) to see colourful things  
ii) to see things that other people ignore  
iii) to enjoy nature  
iv) to experience life

- d) **The poet is a \_\_\_\_\_ person**

- i) negative    ii) funny    iii) hopeful    iv) irresponsible

Q6

Answer the following questions.

(2M x 4=8 M)

1. Name the rocket that was launched in 1969? Do you think space travel is important for humankind?
2. How did Nina help the police?
3. Why did Beauty stop on the bridge?
4. What did the old man give Heidi? What made Miss Rottenmeier run into the study?

Q7

Answer the following questions.

(4M x 2=8M)

1. Why do space programmes choose the best astronauts? Why do astronauts carry out experiments in space?
2. Write the character sketch of the Lion from 'Lion on the Loose'.



SINDHI HIGH SCHOOL BENGALURU - 01

ANNUAL EXAMINATION ( 2025 - 26 )

Subject - Hindi ( Add lang )

Grade- 4

Total Marks - 60

Date - 16 /03 /2026

Reading time : 15 minutes

No of printed sides - 06

Writing time : 2 hr 15 min

( खंड - क )

1. दिए गए गद्यांश को पढ़कर सही उत्तर चुनकर लिखिए।

( 5 )

दुनिया का सबसे लंबा प्राणी जिराफ़ आफ़्रिका में पाया जाता है। जिराफ़ लगभग 18 फीट लंबे हो सकते हैं। इनकी लंबी जीभ और गर्दन इन्हें ऊँचे पत्तों तक पहुँचने में मदद करती है। जिराफ़ मुख्य रूप से पेड़ों की और झाड़ियों की पत्तियों को खाते हैं मगर उनका पसंदीदा भोजन बबूल का पेड़ है। जंगल में लगभग 25 साल तक जीवित रहते हैं, और चिड़ियाघर में उनकी आयु इससे भी ज़्यादा होती है।

1. दुनिया का सबसे लंबा प्राणी कहाँ पाया जाता है ?

i) आफ़्रिका में    ii) भारत में    iii) चीन में    iv) जापान में

2. जिराफ़ को ऊँचे पत्तों तक पहुँचने में कौन मदद करता है ?

i) लंबी गर्दन और कान    ii) लंबी नाक और गर्दन

iii) लंबी जीभ और गर्दन    iv) लंबी जीभ और आँख

3. जिराफ़ लगभग कितने फीट लंबे हो सकते हैं ?

i) 12 फीट    ii) 14 फीट    iii) 16 फीट    iv) 18 फीट

4. जिराफ़ का पसंदीदा भोजन क्या है ?

i) आम का पेड़    ii) बबूल का पेड़

iii) नारियल का पेड़    iv) बरगद का पेड़

5. जिराफ़ जंगल में कितने साल जीवित रहते हैं ?

i) लगभग 25 साल    ii) लगभग 35 साल

iii) लगभग 65 साल    iv) लगभग 45 साल

( खंड - ख )

॥ क ) दिए गए शब्दों के लिए एक - एक पर्यायवाची शब्द लिखिए। ( 2 )

i) नया ii) घर iii) वाणी iv) मानव ( 2 )

ख ) दिए गए शब्दों के विलोम शब्द लिखिए।

i) होनी ii) खुश iii) साध्य iv) अपराधी ( 2 )

ग ) दिए गए मुहावरों के अर्थ लिखिए।

i) चेहरा चमकना ii) नज़रें झुकाना ( 2 )

घ ) सही शब्द चुनकर वाक्यों के खाली स्थान भरिए।

( के साथ - साथ, की ओर, के पीछे, के बीच, के लिए )

i) लकड़हारा सूखी लकड़ियाँ लाने जंगल \_\_\_\_\_ गया है।

ii) पेड़ फलों \_\_\_\_\_ ठंडी छाया भी देते हैं।

iii) गुरु \_\_\_\_\_ उनका शिष्य खड़ा था।

iv) आदमियों \_\_\_\_\_ चीता कैसे आ गया ?

ङ ) नीचे दिए गए शब्दों के साथ प्रत्यय जोड़कर नए शब्द बनाइए। ( 2 )

( इक, ता )

i) समूह ii) वीर iii) समाज iv) सफल

च ) दिए गए शब्दों का वर्ण - विच्छेद कीजिए। ( 2 )

i) बराबर ii) भूख

छ ) दिए गए शब्दों के मानक रूप लिखिए। ( 2 )

i) सीतल ii) कुटुम iii) परलै iv) साँच

ज ) दिए गए शब्दों के वचन बदलिए। ( 1 )

i) नदी ii) आँख

( खंड - ग )

॥॥ दिए गए गद्यांश को पढ़कर सही विकल्प चुनकर लिखिए। ( 5 )

" लेकिन दादा जी। पानी तो हमारे चारों तरफ है। प्रत्येक साल बारिश भी होती है। फिर इसके लिए इतना चिंतित होने की क्या आवश्यकता है ?" रिम्मी रोहन और दादा जी की बातें बहुत ध्यान से सुन रही थी। दादा जी ने उसके उलझन भरे चेहरे के भाव को भाँपते हुए कहा - " रिम्मी तुम्हारा प्रश्न उचित है। अधिकांश लोग इसी तरह सोचते हैं। लेकिन जल से संबंधित आँकड़े सभी को आश्चर्य में डाल देने वाले हैं। हमारी पृथ्वी पर जितना पानी है इसमें से 97.53 प्रतिशत समुद्र में है, जो खारा है। उसके बाद 1.5 प्रतिशत ताज़ा जल बर्फ़ के रूप में ध्रुव प्रदेशों में है।

1. रिम्मी किसकी बातें ध्यान से सुन रही थी ?

- i) रोहन और मित्रों की                      ii) दादा जी और माता - पिता की  
iii) माता - पिता और रोहन की              iv) रोहन और दादा जी की

2. दादा जी को किसका प्रश्न उचित लगा ?

- i) रोहन की              ii) रिम्मी की              iii) दोनों की              iv) किसी का नहीं

3. हमारी पृथ्वी पर जितना पानी है इसमें कितने प्रतिशत पानी समुद्र में है ?

- i) 98.56 प्रतिशत              ii) 97.53 प्रतिशत              iii) 96.56 प्रतिशत              iv) 99.15 प्रतिशत

4. कितना प्रतिशत पानी बर्फ़ के रूप में ध्रुव प्रदेशों में है ?

- i) 1.2 प्रतिशत              ii) 1.5 प्रतिशत              iii) 1.6 प्रतिशत              iv) 1.9 प्रतिशत

5. समुद्र का पानी कैसा है ?

- i) खारा              ii) मीठा              iii) गरम              iv) कड़वा

**IV दिए गए गद्यांश को पढ़कर सही विकल्प चुनकर लिखिए।**

(5)

पटेल चौक मेट्रो रेल का संग्रहालय भी है। इसे ज़रूर देखना चाहिए। तब पता चलेगा कि दिल्ली में मेट्रो रेल चलाने के लिए कैसी - कैसी बाधाएँ पार करनी पड़ीं। आने वाली गाड़ी कितने मिनट बाद आएगी और कहाँ जाएगी, यह सब आप दर्शकपट को देखकर जान जाएँगे। यात्रियों को पीली रेखा के बाहर ही खड़े रहना है। महिलाओं के लिए गाड़ी के जाने की दिशा में पहला डिब्बा आरक्षित है। मेरे हर डिब्बे में भरपूर रोशनी और साफ़ - सफ़ाई है। संकट की स्थिति में चालक से सीधे बात की जा सकती है।

1. मेट्रो रेल का संग्रहालय कहाँ है ?

- i) चाँदनी चौक              ii) गाँधी चौक              iii) पटेल चौक              iv) नेहरू चौक

2. आने वाली गाड़ी कितने मिनट बाद आएगी और कहाँ जाएगी, यह हम कैसे

जान जाएँगे ?

i) दर्शकपट को देखकर      ii) लोगों को देखकर

iii) पुस्तक पढ़कर      iv) किसी से पूछकर

3. यात्रियों को किस रंग की रेखा के बाहर ही खड़े रहना है ?

i) लाल रंग की      ii) काले रंग की

iii) नीले रंग की      iv) पीले रंग की

4. महिलाओं के लिए कौन - सा डिब्बा आरक्षित है?

i) गाड़ी के जाने की दिशा में पहला      ii) गाड़ी के जाने की दिशा में दूसरा

iii) गाड़ी के जाने की दिशा में तीसरा      iv) गाड़ी के जाने की दिशा में चौथा

5. मेट्रो रेल के हर डिब्बे में क्या है ?

i) भरपूर पानी      ii) भरपूर रोशनी और साफ़ - सफ़ाई

iii) भरपूर खाने का सामान      iv) भरपूर गंदगी

**V दिए गए प्रश्नों के सही विकल्प चुनकर लिखिए।**

(5)

1. कवि को गोविंद के बारे में किसने बताया है ?

i) मित्र ने      ii) गुरु ने      iii) माता - पिता ने      iv) पड़ोसी ने

2. कबीरदास जी किन्हें भूखा नहीं जाने देना चाहते ?

i) भिखारी को      ii) पड़ोसी को      iii) साधु को      iv) भाई को

3. दोनों नौजवान कैसे थे ?

i) पढ़े - लिखे      ii) एक जैसे पढ़े - लिखे      iii) अनपढ़      iv) नादान

4. युवकों ने विदा होने से पहले क्या किया ?

i) आचार्य से क्षमा माँगी      ii) आचार्य के पाँव छुए

iii) नज़रें फेर ली      iv) हँसने लगे

5. दुनिया में किसकी दमक है ?

i) पानी की      ii) वर्षा की      iii) बिजली की      iv) चाँदी की

6. मोर कब खुश होकर नाचते हैं ?  
 i) वर्षा न होने से    ii) वर्षा होने से    iii) सूखा पड़ने से    iv) खुश होने से
7. अतिन किस कक्षा का छात्र था ?  
 i) पहली    ii) दूसरी    iii) तीसरी    iv) चौथी
8. अतिन को गणतंत्र दिवस के किस कार्यक्रम में भाग लेना था ?  
 i) सामूहिक खेल    ii) सामूहिक व्यायाम  
 iii) सामूहिक नृत्य    iv) सामूहिक गायन
9. नदियों का पानी कैसा हो गया है ?  
 i) साफ़    ii) नीला    iii) प्रदूषित    iv) खारा
10. लकड़हारे की रोज़ी - रोटी क्या है ?  
 i) सिंचाई करना    ii) पेड़ लगाना    iii) पेड़ काटना    iv) फल बेचना

**VI एक वाक्य में उत्तर लिखिए।**

( 5 )

1. भौरें क्या सिखाते हैं ?
2. एक लकड़हारे के वेश में लड़का क्या करने आता है ?
3. ब्रीफ़केस में क्या था ?
4. सागर से कौन जल भर लाता है ?
5. आचार्य का नाम क्या था ?

**VII निम्नलिखित प्रश्नों के उत्तर लिखिए।**

( 10 )

1. आचार्य ने राजा से क्या कहा ?
2. कबीरदास कल का काम कब करने के लिए कहते हैं ?
3. अगर बादल न होते तो क्या होता ?
4. अतिन मन - ही - मन क्यों खुश हो रहा था ?
5. लकड़हारे को नदी से बिना नहाए ही क्यों लौटना पड़ा ?

( खंड - घ )

VIII दिए गए विषयों में से किसी एक विषय पर अनुच्छेद लिखिए। (5)

- i) मेरी यात्रा      ii) मेरा देश महान      iii) मेरा पुस्तकालय

IX परीक्षा में आपको मिले अच्छे अंकों के बारे में बताते हुए अपने मित्र को एक पत्र लिखिए। (5)



Sindhi High School, Bengaluru  
Annual Examination: 2025 - 26  
Subject : L2 Kannada

Grade : 4  
Date : 28/03/2026  
No of printed Sides : 7

Marks:60  
Reading Time :15 minutes  
Writing time : 2.15 hours

ಸೂಚನೆಗಳು:

- \* ಪತ್ರಿಕೆಯು A ಮತ್ತು B ಎಂಬ ಎರಡು ಭಾಗಗಳನ್ನು ಒಳಗೊಂಡಿರುತ್ತವೆ .
- \* ಪ್ರಶ್ನೆಪತ್ರಿಕೆಯಲ್ಲಿ ಒಟ್ಟು 12 ಮುಖ್ಯ ಪ್ರಶ್ನೆಗಳಿರುತ್ತವೆ.
- \* ಪ್ರತಿಯೊಂದು ಪ್ರಶ್ನೆಗಳ ಸೂಚನೆಗಳನ್ನು ಸರಿಯಾಗಿ ಓದಿಕೊಂಡು ಉತ್ತರಿಸಿ.
- \* ಪ್ರಶ್ನೆ ಮತ್ತು ಉಪಪ್ರಶ್ನೆಗಳ ಸಂಖ್ಯೆಯನ್ನು ತಪ್ಪಿಲ್ಲದೆ ಬರೆಯಿರಿ.

ಭಾಗ- A (30 ಅಂಕಗಳು)	ವಾಚನ ಮತ್ತು ಗ್ರಹಿಕಾ ಕೌಶಲ್ಯ	15 ಅಂಕಗಳು
	ಅನ್ವಯಿಕ ವ್ಯಾಕರಣ	10 ಅಂಕಗಳು
	ಪಠ್ಯಪೂರಕ ಅಧ್ಯಯನ	5 ಅಂಕಗಳು
ಭಾಗ- B (30 ಅಂಕಗಳು)	ಬರವಣಿಗೆಕೌಶಲ್ಯ	8 ಅಂಕಗಳು
	ಪಠ್ಯಗಳ ಅಧ್ಯಯನ	22 ಅಂಕಗಳು
	ಒಟ್ಟು ಅಂಕಗಳು	60 ಅಂಕಗಳು

PART-A ( 30 ಅಂಕಗಳು )

ವಿಭಾಗ- ಎ

( ವಾಚನ ಮತ್ತು ಗ್ರಹಿಕಾ ಕೌಶಲ್ಯ ) ಅಂಕಗಳು-15

1. ಈ ಗದ್ಯ ಭಾಗವನ್ನು ಓದಿ, ಕೊಟ್ಟಿರುವ ಪ್ರಶ್ನೆಗಳಿಗೆ ನಾಲ್ಕು ಉತ್ತರಗಳನ್ನು ಕೊಡಲಾಗಿದೆ, ಸರಿಯಾದ ಉತ್ತರವನ್ನು ಆರಿಸಿ ಬರೆಯಿರಿ. 1x5=5

ಒಂದು ಅರಣ್ಯದಲ್ಲಿ ಸಿಂಹವೊಂದು ವಾಸಿಸುತ್ತಿತ್ತು. ಒಂದು ದಿನ ಸಿಂಹವು ಮರದ ಕೆಳಗೆ ಆರಾಮವಾಗಿ ನಿದ್ರಿಸುತ್ತಿತ್ತು. ಅದೇ ಸಮಯದಲ್ಲಿ ಒಂದು ಸಣ್ಣ ಇಲಿ ಅಲ್ಲಿ ಓಡಾಡುತ್ತಿತ್ತು. ತಪ್ಪಾಗಿ ಇಲಿ ಸಿಂಹದ ಮೇಲೆ ಹತ್ತಿಬಿಟ್ಟಿತು. ಸಿಂಹ ಎಚ್ಚರಗೊಂಡು ಜೋರಾಗಿ ಗರ್ಜಿಸಿತು. ಕೋಪದಿಂದ ಸಿಂಹ ಇಲಿಯನ್ನು ಹಿಡಿದುಕೊಂಡಿತು. ಇಲಿ ಭಯದಿಂದ

ಕ್ಷಮ ಕೇಳಿತು. "ದಯವಿಟ್ಟು ನನ್ನನ್ನು ಬಿಡಿ" ಎಂದು ವಿನಂತಿಸಿಕೊಂಡಿತು. "ಒಂದು ದಿನ ನಾನೂ ನಿಮಗೆ ಸಹಾಯ ಮಾಡುತ್ತೇನೆ" ಎಂದಿತು. ಸಿಂಹ ಇಲಿಯ ಮಾತು ಕೇಳಿ ನಕ್ಕಿತು. ಆದರೂ ಕರುಣೆಯಿಂದ ಇಲಿಯನ್ನು ಬಿಟ್ಟಿತು. ಕೆಲವು ದಿನಗಳ ನಂತರ ಸಿಂಹ ಬೇಟೆಗಾರರ ಬಲೆಗೆ ಸಿಲುಕಿತು. ಸಿಂಹ ಸಹಾಯಕ್ಕಾಗಿ ಜೋರಾಗಿ ಗರ್ಜಿಸಿತು. ಆ ಶಬ್ದವನ್ನು ಕೇಳಿ ಇಲಿ ಅಲ್ಲಿಗೆ ಓಡಿಬಂತು. ಇಲಿ ತನ್ನ ಹರಿತವಾದ ಹಲ್ಲುಗಳಿಂದ ಬಲೆಯನ್ನು ಕಚ್ಚಿತು. ಬಲೆ ಹರಿದು ಸಿಂಹ ಅಪಾಯದಿಂದ ವಾರಾಯಿತು. ನಂತರ ಸಿಂಹವು ಇಲಿಗೆ ಧನ್ಯವಾದ ತಿಳಿಸಿತು.

ಪ್ರಶ್ನೆಗಳು.

1. ಸಿಂಹ ಎಲ್ಲಿ ನಿದ್ರಿಸುತ್ತಿತ್ತು?

A. ಗುಹೆಯಲ್ಲಿ

B. ಮರದ ಕೆಳಗೆ

C. ನದಿಯ ತೀರದಲ್ಲಿ

D. ಬೆಟ್ಟದ ಮೇಲೆ

2. ಬೇಟೆಗಾರರು ಬಂಧಿಸಿದ ಪ್ರಾಣಿ \_\_\_\_\_

A. ಸಿಂಹ

B. ಇಲಿ

C. ಮೊಲ

D. ಜಿಂಕೆ

3. ಬಲೆಯನ್ನು ಹರಿತವಾದ ಹಲ್ಲುಗಳಿಂದ ಕಚ್ಚಿದವರು \_\_\_\_\_

A. ಕಾಗೆ

B. ನಾಯಿ

C. ಸಿಂಹ

D. ಇಲಿ

4. ಅಂತ್ಯದಲ್ಲಿ ಸಿಂಹವು ಯಾರಿಗೆ ಧನ್ಯವಾದ ಹೇಳಿತು?

A. ನರಿ

B. ಇಲಿ

C. ಕರಡಿ

D. ಕುದುರೆ

5. ಸಿಂಹವು \_\_\_\_\_ ವಾಸಿಸುತ್ತಿತ್ತು.

A. ನೀರಿನಲ್ಲಿ

B. ಮನೆಯಲ್ಲಿ

C. ಅರಣ್ಯದಲ್ಲಿ

D. ಬೇಟೆಗಾರನ ಬಲೆಯಲ್ಲಿ

II. ಈ ಕೆಳಗೆ ಕೊಟ್ಟಿರುವ 'ಡಾ. ಸಲೀಂ ಅಲಿ' ಈ ಪರಿತ ಗದ್ಯಭಾಗವನ್ನು ಓದಿಕೊಂಡು, ಅದರ ಕೆಳಗೆ ಕೊಟ್ಟಿರುವ ಪ್ರಶ್ನೆಗಳಿಗೆ ಉತ್ತರ ಬರೆಯಿರಿ.

1x5=5

ಒಂದು ದಿನ ಹುಡುಗನೊಬ್ಬ ಸತ್ತು ಬಿದ್ದಿದ್ದ ಹಕ್ಕಿಯೊಂದನ್ನು ನೋಡಿ ಕುತೂಹಲಗೊಂಡ, ಆ ಹಕ್ಕಿಯ ಕುತ್ತಿಗೆಯ ಕೆಳಗೆ ಇದ್ದ ಹಳದಿ ಬಣ್ಣ ಅವನ ಗಮನ ಸೆಳೆಯಿತು. ಹಕ್ಕಿಯ ಹೆಸರೇನೆಂದು ಸೋದರಮಾವನನ್ನು ಕೇಳಿದಾಗ ಅವರಿಗೆ ಅದರ ಬಗ್ಗೆ ಹೆಚ್ಚಿನ ವಿವರ ಗೊತ್ತಿರಲಿಲ್ಲ. ಅದರ ಬಗ್ಗೆ ತಿಳಿದುಕೊಳ್ಳಲು ಆತನನ್ನು ಮುಂಬಯಿಯ

ಪ್ರಕೃತಿ ವಿಜ್ಞಾನ ಸಂಘದ ಪಕ್ಷಿತ್ವದ ಬಳಿ ಕರೆದೊಯ್ದರು. ಅಲ್ಲಿಯ ಪಕ್ಷಿತ್ವ ಡಬ್ಲ್ಯೂ. ಎಸ್. ಮಿಲ್ಡರ್ಡ್ ಬಾಲಕನ ಕೈಯಲ್ಲಿ ಸತ್ತು ತೂಗಾಡುತ್ತಿದ್ದ ಹಕ್ಕಿಯನ್ನು ಗಮನಿಸಿ ಇದು 'ಕಾಡುಗುಬ್ಬಚ್ಚಿ' ಎಂದು ತಿಳಿಸಿದರು. ಅಲ್ವೆಡ್ ಬಾಲಕನ ಕುತೂಹಲವನ್ನು ಗಮನಿಸಿದ ಅವರು ಅವನನ್ನು ಸಂಘದ ಕಛೇರಿಯ ಎಲ್ಲಾ ಭಾಗಗಳಿಗೂ ಕರೆದೊಯ್ದರು. ಎಲ್ಲಾ ಕಡೆ ಸತ್ತ ಪಕ್ಷಿಗಳನ್ನು ಸಂರಕ್ಷಿಸಿ ಒಪ್ಪವಾಗಿ ಜೋಡಿಸಿಟ್ಟಿದ್ದರು. ಬಾಲಕ ಈ ವಿಸ್ಮಯದ ಪಕ್ಷಿಲೋಕವನ್ನು ಕಂಡು ನಿಬ್ಬೆರಗಾದ. ಈ ಪಕ್ಷಿ ಪ್ರಪಂಚದಲ್ಲಿ ಅಷ್ಟು ದೊಡ್ಡ ಪಕ್ಷಿ ಪ್ರಪಂಚ ಇದೆ ಎನ್ನುವುದನ್ನು ಕನಸಿನಲ್ಲಿಯೂ ಊಹಿಸಿರಲಿಲ್ಲ. ಅಂದಿನಿಂದ ಆತ 'ನನ್ನ ಬದುಕು ಇನ್ನು ಮುಂದೆ ಪಕ್ಷಿ ಅಧ್ಯಯನಕ್ಕೆ ಮೀಸಲು' ಎಂದು ನಿರ್ಧರಿಸಿದ. ಮುಂದೆ ಖ್ಯಾತ ಪಕ್ಷಿತ್ವ ಎನಿಸಿದ. ಆತನೇ ಪಕ್ಷಿಪ್ರೇಮಿ ಸಲೀಂ ಅಲಿ.

ಡಾ. ಸಲೀಂ ಮೊಯಿಜುದ್ದೀನ್ ಅಬ್ದುಲ್ ಅಲಿ ಅವರು ನವೆಂಬರ್ 12, 1896ರಂದು ಮುಂಬಯಿಯ ಶ್ರೀಮಂತ ಕುಟುಂಬದಲ್ಲಿ ಜನಿಸಿದರು. ಹತ್ತು ಮಕ್ಕಳಲ್ಲಿ ಸಲೀಂರವರು ಕೊನೆಯವರು. ಇವರು ಜನಿಸಿದ ಮೂರು ವರ್ಷದಲ್ಲೆ ತನ್ನ ತಂದೆತಾಯಿಯವರನ್ನು ಕಳೆದುಕೊಂಡು ಅನಾಥರಾದರು. ಬಳಿಕ ಅವರ ಸೋದರಮಾವ ಅಮೀರುದ್ದೀನ್ ತಯಾಬ್ಬಿಯವರ ಆಶ್ರಯದಲ್ಲಿ ಬೆಳೆದರು. ಹೈಸ್ಕೂಲ್ ಮುಗಿಸಿದ ಅಲಿಯವರು ನಂತರ ತನ್ನ ಸಹೋದರನ ಜೊತೆ ಕೆಲಸ ಮಾಡಲು ಬರ್ಮಾಕ್ಕೆ ಹೋದರು. ಅಲ್ಲಿ ಅದಿರಿನ ಗಣಿಯಲ್ಲಿ ದುಡಿಯುತ್ತಾ ಪಕ್ಷಿವೀಕ್ಷಣೆ ಮತ್ತು ಅದರ ಅಧ್ಯಯನವನ್ನು ಮುಂದುವರಿಸಿದರು. ಈ ಸಂದರ್ಭದಲ್ಲಿ ಅವರಿಗೆ 'ತೆಹ್ಮಿನಾರ ಜೊತೆಗೆ ಮದುವೆಯಾಯಿತು. ನಂತರ ಅಲಿಯವರು ಪತ್ನಿ ತೆಹ್ಮಿನಾರ ಜೊತೆಯಲ್ಲಿ ಮುಂಬಯಿಗೆ ಹಿಂದಿರುಗಿದರು. ಅಲಿಯವರು ಬಾರತದ ತುಂಬೆಲ್ಲಾ ಸಂಚರಿಸಿ ಪಕ್ಷಿ ಪ್ರಭೇದದ ಬಗ್ಗೆ ಸಾಕಷ್ಟು ಮಾಹಿತಿಗಳನ್ನು ಕಲೆಹಾಕಿ ಪತ್ರಿಕೆಗಳಲ್ಲಿ ಲೇಖನಗಳನ್ನು ಬರೆಯತೊಡಗಿದರು. ನಂತರ ಸಲೀಂ ಅಲಿಯವರು ಕೆಲವೇ ದಿನಗಳಲ್ಲಿ ಪಕ್ಷಿಪ್ರೇಮಿ ಸಲೀಂಅಲಿ ಎಂದು ಪ್ರಖ್ಯಾತರಾದರು.

ಪ್ರಶ್ನೆಗಳು:

1. ಕಾಡುಗುಬ್ಬಚ್ಚಿ ಎಂದು ತಿಳಿಸಿದವರು ಯಾರು?
2. ಡಾ. ಸಲೀಂ ಅಲಿ ಅವರು ಯಾವಾಗ ಮತ್ತು ಎಲ್ಲಿ ಜನಿಸಿದರು?
3. ಹಕ್ಕಿಯ ಕುತ್ತಿಗೆಯ ಕೆಳಗಿನ ಯಾವ ಬಣ್ಣ ಬಾಲಕನ ಗಮನ ಸೆಳೆಯಿತು?
4. ಹುಡುಗನನ್ನು ಮುಂಬಯಿಯ ಯಾವ ಸಂಸ್ಥೆಗೆ ಕರೆದುಕೊಂಡು ಹೋದರು?
5. ಸಲೀಂ ಅಲಿ ಅವರು ಯಾರ ಆಶ್ರಯದಲ್ಲಿ ಬೆಳೆದರು?

III. ಈ ಕೆಳಗೆ ಕೊಟ್ಟಿರುವ ದ.ರಾ. ಬೇಂದ್ರೆ ಕವಿಯು ಬರೆದಿರುವ ' ಬಿದಿಗೆ ಚಂದ್ರ ಬಂದ ನೋಡು ' ಪಠಿತ ಪದ್ಯಭಾಗವನ್ನು ಓದಿಕೊಂಡು , ಕೆಳಗೆ ಕೊಟ್ಟಿರುವ ಪ್ರಶ್ನೆಗಳಿಗೆ ಉತ್ತರ ಬರೆಯಿರಿ:

1x5=5

ಬಿದಿಗೆ ಚಂದ್ರ ಬಂದ ನೋಡು  
ದೀಪ ಹಚ್ಚಿದಂತೆ ಜೋಡು  
ಯಾರ ಮನೆಯು ಅಲ್ಲಿ ಇಹುದೋ  
ಯಾರು ಬಲ್ಲರು?  
ನೋಡಲೇನು, ಒಬ್ಬರೇನು  
ಹೇಳಲೊಲ್ಲರು. || ೧ ||

ಅಷ್ಟಮಿ ಚಂದಿರನು ಬಂದ  
ಅರ್ಧಬಿಟ್ಟು ಅರ್ಧ ತಿಂದ  
ಉಂಡಿ ಚೆಲ್ಲಿ ಕೊಟ್ಟನಿಲ್ಲಿ  
ಹುಡುಗನಾವನು?  
ಕಾಣೆ ಅತ್ತ ಇತ್ತ ಎತ್ತು ಅವನ  
ರಾವನು. || ೨ ||

ಅಗೋ ಚವತಿ ಚಂದ್ರ ನೋಡು  
ಮೂಡಿದಂತೆ ಎರಡು ಕೋಡು  
ಮೃಗವು ಎಲ್ಲಿ ಇಹುದೋ ಏನೋ  
ನಾನು ಕಾಣೆನು  
ಇಂಥ ಚಿತ್ರ ಬರೆದನಿಲ್ಲಿ  
ಯಾವ ಜಾಣನು? || ೧ ||

ಬಂದನು ಹುಣ್ಣಿಮೆಯ ಚಂದ್ರ  
ಬೆಳದಿಂಗಳು ನಿಬಿಡ ಸಾಂದ್ರ  
ಅಲ್ಲ ಅಲ್ಲ ಮುಗಿಲು ತುಂಬ  
ಇಹುದು ಮಜ್ಜಿಗೆ  
ಬೆಣ್ಣೆಮುದ್ದೆ ಮೇಲೆಯೊಂದು  
ಹೇಳು ಅಜ್ಜಿಗೆ. || ೪ ||

ಪ್ರಶ್ನೆಗಳು:

1. ಪದ್ಯದಲ್ಲಿ ಯಾವ ಚಂದ್ರನ ಬಗ್ಗೆ ಹೇಳಲಾಗಿದೆ?
2. ಅಷ್ಟಮಿ ಚಂದಿರನು ಹೇಗೆ ಕಾಣುತ್ತಾನೆ?
3. ಮಜ್ಜಿಗೆಯ ಮೇಲಿನ ಬೆಣ್ಣೆಮುದ್ದೆ ಯಾರು?
4. ಈ ಪದ್ಯವನ್ನು ಬರೆದ ಕವಿಯ ಹೆಸರೇನು?
5. ಬಿದಿಗೆ ಚಂದ್ರ ಹೇಗೆ ಕಾಣುತ್ತಿದ್ದಾನೆ?

ವಿಭಾಗ-ಬಿ

( ಅನ್ವಯಿಕ ವ್ಯಾಕರಣ ಮತ್ತು ಪಠ್ಯಪೂರಕ ಅಧ್ಯಯನ ) ಅಂಕಗಳು -10

IV. ಕೆಳಗಿನ ಪ್ರತಿಯೊಂದು ಪ್ರಶ್ನೆಗೆ ನಾಲ್ಕು ಉತ್ತರಗಳನ್ನು ಕೊಡಲಾಗಿದೆ. ಅವುಗಳಲ್ಲಿ ಸರಿಯಾದ ಉತ್ತರವನ್ನು ಆರಿಸಿ ಬರೆಯಿರಿ. 1X7=7

1. 'ಕುತೂಹಲ' - ಈ ಪದದ ಅರ್ಥ.

A. ಅಚ್ಚರಿ

B. ಬೇಸರ

C. ದಕ್ಷತೆ

D. ಒಪ್ಪಿಗೆ

2. 'ಕರುಣೆ' - ಈ ಪದದ ವಿರುದ್ಧ ಪದ.

A. ಭಯ

B. ನಿಷ್ಕರುಣೆ

C. ನಿರ್ಭಯ

D. ಅಪಜಯ

3. 'ಅಣ್ಣ' - ಈ ಪದದ ಅನ್ಯಲಿಂಗ ರೂಪ.

A. ಚಿಕ್ಕಮ್ಮ

B. ಅತ್ತೆ

C. ಅಕ್ಕ

D. ಅತ್ತಿಗೆ

4. 'ದೇವಾಲಯ' - ಈ ಪದದ ಬಹುವಚನ ರೂಪ.

A. ಸ್ಮಾರಕಗಳು

B. ಪುಸ್ತಕಗಳು

C. ಮನೆಗಳು

D. ದೇವಾಲಯಗಳು

5. 'ಕೊಟ್ಟಿನಿಲ್ಲಿ' - ಈ ಪದವನ್ನು ಬಿಡಿಸಿ ಬರೆದಾಗ.

A. ಕಟ್ಟನು + ಅಲ್ಲಿ

B. ಕೊಟ್ಟನು + ಅಲ್ಲಿ

C. ಕೊಟ್ಟನು + ಇಲ್ಲಿ

D. ಕೊಟ್ಟದು + ಇಲ್ಲಿ

6. 'ಪ್ರಾಣಿಗಳ ಹುಸಿರಾಟಕ್ಕೆ ಆಮ್ಲಜನಕ ಬೇಕು' - ಗೆರೆ ಎಳೆದ ಪದದ ಸರಿಯಾದ ರೂಪವನ್ನು ಗುರುತಿಸಿ.

A. ವಸಿರಾಟಕ್ಕೆ

B. ಉಸಿರಾಟಕ್ಕೆ

C. ಒಸಿರಾಟಕ್ಕೆ

D. ಹೋಸಿರಾಟಕ್ಕೆ

7. 'ಮನ - ಮನೆ' - ಕೊಟ್ಟಿರುವ ಪದಗಳ ಅರ್ಥವ್ಯತ್ಯಾಸವನ್ನು ಗುರುತಿಸಿ.

A. ಮನಸ್ಸು - ಗೃಹ

B. ಉದ್ದೇಶ - ಅರ್ಥಭಾಗ

C. ಪ್ರಾಣಿ - ತನಯ

D. ಉದಯ - ಕೂದಲು

1 x 3 = 3

V ಕೆಳಗಿನವುಗಳನ್ನು ಸೂಚನೆಯಂತೆ ಬರೆಯಿರಿ.

- 1) 'ಕಾರಾಗೃಹ' - ಈ ಪದವನ್ನು ಸ್ವಂತವಾಕ್ಯದಲ್ಲಿ ಬರೆಯಿರಿ.
- 2) ಕಣ್ಣಾರೆ ಕಂಡರೂ \_\_\_\_\_ ಈ ಗಾದೆಯನ್ನು ಪೂರ್ಣಗೊಳಿಸಿ.
- 3) ತಿನ್ನಲು ಮಾವಿನ ರುಚಿಯಾಗಿರುತ್ತದೆ ಹಣ್ಣು - ಈ ವಾಕ್ಯವನ್ನು ಸರಿಪಡಿಸಿ ಬರೆಯಿರಿ.

VI ಕೆಳಗಿನ ಪ್ರಶ್ನೆಗಳಿಗೆ ನಾಲ್ಕು ಉತ್ತರಗಳನ್ನು ಕೊಡಲಾಗಿದೆ. ಅವುಗಳಲ್ಲಿ ಸರಿಯಾದ ಉತ್ತರವನ್ನು ಆರಿಸಿ ಬರೆಯಿರಿ.

1X5=5

1. ಮಂಗಳಿಗೆ ಪಂಚೆಯನ್ನುಡಿಸಿ \_\_\_\_\_ ಹಾಕಿದರು.  
A. ಕಿರೀಟ B. ಪಂಚೆ C. ಸೀರೆ D. ಅಂಗಿ
2. ಮಂತ್ರವಾದಿಯು \_\_\_\_\_ ಯಿಂದ ಜನರಿಗೆ ಒಳ್ಳೆಯ ಕೆಲಸಗಳನ್ನು ಮಾಡುತ್ತಿದ್ದನು.  
A. ಯಂತ್ರಶಕ್ತಿ B. ಜಾಣಶಕ್ತಿ C. ಮಂತ್ರಶಕ್ತಿ D. ಯುದ್ಧಶಕ್ತಿ
3. ಬಿಸಿಲು ಮಳೆ ಸೇರಿ ಯಾವುದನ್ನು ತಂಪು ಮಾಡಿತು?  
A. ನೀರು B. ಧಗೆ C. ಗಾಳಿ D. ಬೆಳಕು
4. ಇಲಿಯು \_\_\_\_\_ ಎಂದು ಚೀರುತ್ತ ಓಡಿ ಹೋಯಿತು.  
A. ಚೀವ್ ಚೀವ್ B. ಅಂಬಾಅಂಬಾ C. ಬೌಬೌ D. ಮಿಯಾವ್ ಮಿಯಾವ್
5. ಕೋತಿ ಯಾರನ್ನು ಮದುವೆಯಾಯಿತು?  
A. ಮೊಲ B. ನಾಯಿ C. ಕೋಳಿ D. ಬೆಕ್ಕು

PART- B: ( 30 ಅಂಕಗಳು)

ವಿಭಾಗ - ಸಿ

( ಬರವಣಿಗೆ ಕೌಶಲ್ಯ ) ಅಂಕಗಳು - 8

VII ಮೈಸೂರಿನಲ್ಲಿ ನಿಮ್ಮ ಅಣ್ಣನ ಮದುವೆ ಇರುವ ಕಾರಣ ಎರಡು ದಿನಗಳ ರಜೆಯನ್ನು ಕೋರಿ ತರಗತಿ ಶಿಕ್ಷಕರಿಗೆ ರಜೆ ಪತ್ರ ಬರೆಯಿರಿ. 4

VIII ಈ ಕೆಳಗಿನ ಯಾವುದಾದರೂ ಒಂದು ವಿಷಯವನ್ನು ಕುರಿತು 6-7 ವಾಕ್ಯಗಳಲ್ಲಿ ಕಿರು ಟಿಪ್ಪಣಿ ಬರೆಯಿರಿ. 4

1. ನಾನು ಮಾಡಿದ ಪ್ರವಾಸ
2. ಹವ್ಯಾಸಗಳು
3. ನನ್ನ ಮೆಚ್ಚಿನ ಆಟ

ವಿಭಾಗ-ಡಿ

( ಪಠ್ಯಗಳ ಅಧ್ಯಯನ ) ಅಂಕಗಳು - 22

ix ಈ ಕೆಳಗಿನ ಪ್ರಶ್ನೆಗಳಿಗೆ ಒಂದು ವಾಕ್ಯದಲ್ಲಿ ಉತ್ತರಿಸಿ.

1X4=4

1. ಕೊಬ್ಬರಿ ಎಣ್ಣೆಯನ್ನು ಯಾವುದರಿಂದ ಮಾಡುತ್ತಾರೆ?
2. ಶ್ರೀರಂಗಪಟ್ಟಣ ಯಾವ ಜಿಲ್ಲೆಗೆ ಸೇರಿದೆ?
3. ಗಾಳಿಪಟ ಯಾವುದಕ್ಕೆ ಸಿಕ್ಕಿಹಾಕಿಕೊಂಡಿತು?
4. ಯಾವ ಹಣ್ಣನ್ನು ತಿಂದರೆ ಒಬ್ಬರ ಹೊಟ್ಟೆಯೂ ತುಂಬೊಲ್ಲ?

x. ಈ ಕೆಳಗಿನ ಪ್ರಶ್ನೆಗಳಿಗೆ ಎರಡು-ಮೂರು ವಾಕ್ಯದಲ್ಲಿ ಉತ್ತರಿಸಿ.

2X4=8

1. ಪುಟ್ಟನು ಗೆಳೆಯರಿಗೆ ಜಂಭದಿಂದ ಏನನ್ನು ಹೇಳಿದನು?
2. ಶ್ರೀರಂಗಪಟ್ಟಣದಲ್ಲಿ ಕೋಟೆಯನ್ನು ಏಕೆ ಕಟ್ಟಿದ್ದಾರೆ?
3. ಯಾವ ಪರಂಪರೆಯನ್ನು ಬೆಳೆಸುವುದು ನಮ್ಮ ಕರ್ತವ್ಯ?
4. ಬಾಳೆಯ ಉಪಯೋಗಗಳನ್ನು ಬರೆಯಿರಿ?

xI ಈ ಕೆಳಗಿನ ಪ್ರಶ್ನೆಗಳಿಗೆ ಮೂರು- ನಾಲ್ಕು ವಾಕ್ಯದಲ್ಲಿ ಉತ್ತರಿಸಿ.

3X2=6

1. ದಾಸವಾಳ, ಗಿಡ - ಮರಗಳಿಗೆ ಏನೆಂದು ಬುದ್ಧಿವಾದ ಹೇಳಿತು?
2. ಗಾಳಿಪಟ ಯಾರ ಪಾಲಾಯಿತು? ಮತ್ತು ಗಾಳಿಪಟ ಪದ್ಯದಲ್ಲಿ ಕಂಡುಬರುವ ನೀತಿಯೇನು?

xII. ಈ ಮಾತನ್ನು ಯಾರು ಯಾರಿಗೆ ಹೇಳಿದರು.

2x2=4

1. " ಯಾವುದೋ ಹಳೆಯ ಅರಮನೆ ಸ್ಥಳ ಕಾಣುತ್ತಿದೆ " .
2. " ನಾನು ಕೊಡುವ ಹಣ್ಣು ನಾಲ್ಕಾರು ಜನರಿಗೆ ಸಾಕು " .

\*\*\*\*\*



# SINDHI HIGH SCHOOL, BENGALURU

ANNUAL EXAMINATION (2025-26)

SUBJECT: MATHEMATICS

Class: IV

Date: 20.03.2026

No of Sides: 5

Max Marks: 60

Reading Time: 15 minutes

Writing Time: 2 hours 15 min

## GENERAL INSTRUCTIONS:

- This Question Paper has 5 Sections A-E.
- Section A has 14 questions carrying 1 mark each
- Section B has 4 questions carrying 02 marks each.
- Section C has 5 questions carrying 03 marks each.
- Section D has 3 question carrying 05 marks..
- Section E has 2 case based integrated units of assessment carrying 4 marks sub-parts of the values of 1, 1 and 2 marks each.

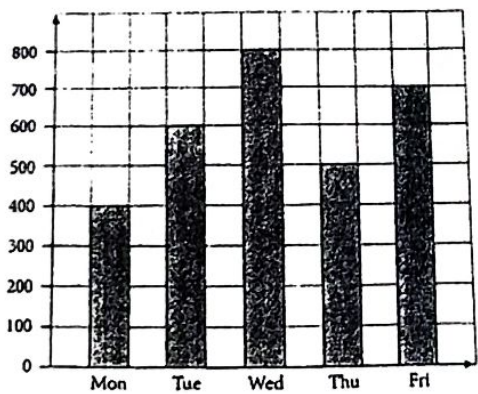
Section A		
Section A consists of 14 questions of 1 mark each.		
1.	An equilateral triangle has _____ lines of symmetry. (a) 0 (b) 1 (c) 2 (d) 3	1
2.	The cost of 3 toys is ₹4800. What is the cost of one toy? (a) ₹1500 (b) ₹1600 (c) ₹1700 (d) ₹1800	1
3.	The equivalent fraction of $\frac{5}{8}$ is (a) $\frac{10}{12}$ (b) $\frac{12}{15}$ (c) $\frac{15}{24}$ (d) $\frac{10}{18}$	1
4.	The number which has the same mirror image. (a) 2 (b) 9 (c) 8 (d) 5	1
5.	The perimeter of a square is 48cm. What is the length of one side? (a) 12cm (b) 16cm (c) 13cm (d) 14cm	1
6.	What number must be added to 76,582 to get 98,567? (a) 21,985 (b) 21,983 (c) 22,985 (d) 22,983	1
7.	$\frac{4587}{100}$ can be written in decimal as _____ (a) 4.587 (b) 45.87 (c) 458.7 (d) 458700	1

8. The school starts at 8:00am and ends at 2:40pm. What is the duration?  
 (a) 6 hours (b) 6 hours 40 mins (c) 7 hours 40 mins (d) 7 hours
9. ☺ = 7 students, then ☺☺☺☺☺ stands for  
 (a) 14 (b) 28 (c) 32 (d) 35
10. The sum of the greatest 5-digit number and the smallest 5-digit number is  
 (a) 109999 (b) 100000 (c) 10999 (d) 199999
11. The greatest factor of a number is \_\_\_\_\_ and the greatest multiple of a number is \_\_\_\_\_  
 (a) one, infinite (b) infinite, number itself  
 (c) infinite, one (d) number itself, infinite
12. The prime numbers between 25 and 35.  
 (a) 27, 29 (b) 29, 31 (c) 31, 33 (d) 27, 31
13. Complete the pattern :  
 ○ ○ △ ▽ ○ ○ △ ▽ ○ — — ▽ ○  
 (a) ○ △ (b) ○ ▽ (c) △ ○ (d) ▽ ○
14. Express 3687ml in litre  
 (a) 36.87 L (b) 368.7 L (c) 3.687 L (d) 0.3687 L

**Section B**

**Section B consists of 4 questions of 2 marks each.**

15. The bar graph below shows the number of people who visited a museum from Monday to Friday on a certain week.



- Answer the following questions:
- On which day did the maximum number of people visit the museum ?
  - On which day the least number of people visit the museum?
  - Find the total number of people who visited the museum on these five days.

Draw the factor  
 Solve  
 1,36,465 - 50  
 Draw

Draw the factor tree for 32.

2

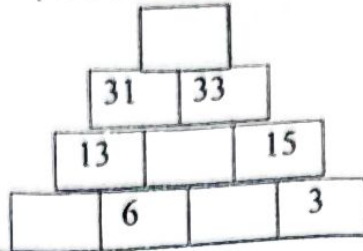
Solve-

$$1,36,465 - 59,384 + 29,483$$

2

18. Draw and complete the addition tower

2

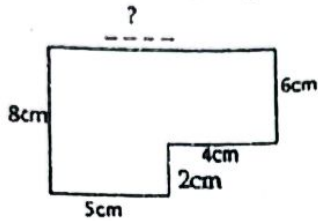


Section C


Section C consists of 5 questions of 3 marks each.

19. a) Find the length of the missing side, if the perimeter is 34c m.

3



b) Find the area of the given figure.



20.

The weight of Tania's bag is 45kg 760g and the weight of Rania's bag is 42kg 950g.

3

a) What is the total weight of both the bags?

b) Whose bag is heavier and by how much?

21.

a) Find the LCM of 5 and 7

3

b) Check if 6 is a factor of 56?

22.

Write the given decimal number 387.826 in

3

a) Place value chart.

b) Expanded form

23. The school closes for summer vacation on 28<sup>th</sup> March and reopens on 5<sup>th</sup> June. Calculate the number of days of vacation? (not including both the dates)





Section D

24. Ravi made a circle chart on how he spent ₹ 1000. Study the given circle chart and fill in the blanks:



- What fraction of the money was used on buying clothes?
- What fraction of the money was spent on books?
- What fraction of the money he spent on friends?
- How much money he saved?
- Calculate the money spent on Canteen.

25. Rita purchased 6 cupcakes, 3 pizzas, 5 french fries and 4 glasses of oreo milk shakes in her birthday party. The cost of the items is mentioned below. Make a bill for the given items and find the total cost she spent?

			
₹ 45.50	₹ 475.50	₹ 120.00	₹ 180.50

26. Sonal had 72 stamps in her collection. She gave  $\frac{3}{8}$  of stamps to her friend.
- How many stamps did she give to her friend and how many are left with her?
  - Convert the improper fraction  $\frac{23}{6}$  to mixed fraction.
  - Write 2 equivalent fractions of  $\frac{4}{7}$ .

Section E

Section E consists of two Case base study questions of 4 mark

Aarav planned many activities for Sunday. He woke up at 7:00 a.m. and took 30 minutes to get ready. He had breakfast at 7:45 a.m. At 9:00 a.m., he started doing his homework and finished at 10:45 a.m. In the afternoon, he played cricket from 4:15 p.m. to 5:45 p.m. He went to bed at 9:30 p.m.

- (a) How long did Aarav take to complete his homework?
- (b) How much time did he spend playing cricket?
- (c) How many hours was Aarav awake on Sunday?
- (d) If Aarav started watching TV at 6:00 p.m. and watched for 1 hour 20 minutes, at what time did he stop watching TV?

28. Ravi's wife works at a tailor's shop. She has to fix the lace around 3 table cloths. Look at the picture below and answer the questions:



- (a) How much lace is required for one table cloth?
- (b) How much lace will be used in 3 such table cloths?
- (c) If she bought 100 meters roll of lace, how much lace will be left in the roll?

\*\*\*\*\*



SINDHI HIGH SCHOOL, BENGALURU  
ANNUAL EXAMINATION [2025-26]  
SUBJECT: SCIENCE

Class: IV  
Date: 18.03.26  
No of Sides: 03

Max. Marks: 60 M  
Reading Time: 15 min  
Writing Time: 2 ½ hours

**GENERAL INSTRUCTIONS:**




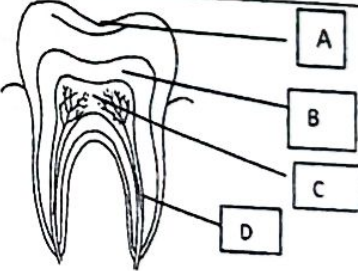
- i) This question paper consists of 12 questions
- ii) All questions are compulsory.
- iii) Write in neat handwriting.

SECTION-A		1X10 =10
<b>I</b>	<b>Choose the correct option:</b>	1
<b>i</b>	Animals which lay eggs are known as: A) Oviparous B) Herbivorous C) Omnivorous D) Mammals	1
<b>ii</b>	A young one of a frog is known as: A) Pupa B) Caterpillar C) Tadpole D) Cocoon	1
<b>iii</b>	Which of the following features help a Polar bear survive in extreme cold conditions? A) Long sharp claws. B) A thick layer of fat under the skin. C) Strong teeth. D) Small ears	1
<b>iv</b>	An aquatic creature that can escape from its enemy by puffing up like a balloon. A) Cuttle fish B) Jelly fish C) Puffer fish D) Star fish.	1
<b>v</b>	Find the correct sequence: A) Inner core, mantle, crust, outer core. B) Crust, outer core, inner core, mantle. C) Mantle, crust, inner core, outer core. D) Crust, mantle, outer core, inner core.	1
<b>vi</b>	Which of the following best describes the environmental impact of improper disposal of a plastic bottle? A) The plastic will quickly mix with the soil and disappear. B) The bottle will enhance the quality of the soil. C) The plastic may accumulate in the environment and harm living organisms. D) The bottle will evaporate when exposed to sunlight	1
<b>vii</b>	Which of the following is considered a cleaner fuel? A) Firewood B) Diesel C) CNG D) Kerosene	1
<b>viii</b>	The process by which clear water after sedimentation is gently poured into another container is called : A) Sedimentation B) Decantation C) Evaporation D) Filtration	1

ix	Identify the wrong statement: A) Petrol is soluble in water. B) Wax is insoluble in water. C) The gas dissolve in cold drink is carbon dioxide. D) When sugar is added in water its level remains same.	1
x	The teeth those are not present in the set of milk teeth. A) Molar B) Incisors C) Canine D) Premolar	1x4=4
	<b>Analogy:</b>	
i	Evaporation: _____ :: Condensation: Gas change into liquid.	1
ii	Fog: water vapour condensed on dust particle:: _____ : Thin white layer of ice on the ground.	1
iii	Bursting of crackers: Air pollution:: Spraying pesticides _____.	1
iv	Sputnik-1: launched in 1957:: _____ : launched in 1975.	1x3=3
3	<b>Choose the odd one out and justify your choice.</b>	
i	Whale, Snake, Tortoise, Crocodile.	
ii	Fingerling, Cocoon, Nymph, caterpillar.	
iii	Crow, Bear, Ants, Deer.	1x3=3
4	<b>Give one word for the following statements:</b>	
i	Tiny particle with which matter is made up of _____.	
ii	Any change which results in the formation of new substance is known as _____.	
iii	The process of transformation from an immature form into an adult _____.	1x3=3
5	<b>Give reasons:</b>	
i	The smell of incense stick spread throughout the room.	
ii	Siberian crane comes to India every year in winter.	
iii	It is important to rinse our mouth after eating.	
6	<b>Write true and false and rewrite the correct statement of the following.</b>	1x5=5
i	Only 3.6% of the total water available on earth is fresh water.	
ii	Boiled tea leaves are biodegradable.	
iii	Revolution of the earth cause change in season.	
iv	Animals that spend most of their time in water are called arboreal animals.	
v	Amphibians lay their egg in cluster known as cocoon.	
7	<b>Define the following terms</b>	1x3=3
	i) Solution                      ii) Moulting                      iii) Scavenger	

SECTION B

Short answer type question

8	<p>i) Observe the diagram and answer the following questions:</p> <p>a) Name the state of matter shown in diagram (a) based on its molecular arrangement and write one of its properties.</p> <p>b) Draw a diagram showing the change in state in diagram (a) after heating.</p>	<p>Molecular arrangement</p> 	2
	<p>ii) Ravi found that the water in a bucket was mixed with sand and small stones. He used a piece of cloth and a funnel to clean the water.</p> <ol style="list-style-type: none"> <li>1. What process did Ravi use to clean the water?</li> <li>2. Draw a simple diagram of the process.</li> </ol>		2
	<p>iii) Based on the feeding habits of the animal given in the picture:</p> <p>a) Write two adaptive features of the animal that helps it get its food?</p> <p>b) Define type of feeding habit does this animal have?</p>		2
	<p>iv) Rohan cleaned his room and found banana peels, plastic wrappers.</p> <p>a) Which of these are <b>biodegradable</b> and which are <b>non-biodegradable</b> wastes?</p> <p>b) Why is it important to separate waste?</p>		2
	<p>v) Imagine that the Earth stops spinning on its axis. What changes would happen on Earth? Define the process.</p>		3
9	<p>Animals are adapted to protect themselves from enemies.</p> <p>Observe the pictures of animals A and B.</p> <p>a) Identify animals A and B.</p> <p>b) Write <b>one adaptive feature</b> of each animal that helps it protect itself.</p> <p>c) Explain in animal A how this feature helps in protection.</p>		4
10	<p>a) Differentiate between outer and inner planets. Write two points each.</p> <p>b) Name the following.</p> <p>i) Morning star ii) Third planet from the sun iii) Red planet iv) Largest planet</p>		4
11	<p>a) Write the parts of tooth A, B, C, D.</p> <p>b) Write two ways to take care of your teeth.</p> <p>c) What do you mean by plaque?</p>		5
12	<p>a) Draw and label the internal structure of an egg.</p> <p>b) Explain the parental care in birds and reptiles. Write one point each.</p> <p>c) What do you mean by hatching?</p>		5



Sindhi High School, Bengaluru  
Annual Examination- 2025-26  
Subject: Social Science


Grade: 4 A/B/C/D  
Date: 25.03.2026  
No. of printed sides: 5

Marks: 60  
Reading Time- 15 minutes  
Writing Time- 2hr 15 min

Section A		
<b>Q 1</b>	<b>Multiple choice questions:-</b>	<b>(1x5=5)</b>
1.	The Constitution was adopted on _____. a) 26 January 1950 b) 26 January 1947 c) 26 November 1950 d) 26 November 1949	
2.	A soil which is very fertile and rich in humus is _____ a) black soil b) alluvial soil c) Red soil d) Laterite Soil	
3.	The Ganga- Brahmaputra delta in West Bengal is covered with tidal forest called _____. a) Sundri b) Mangrove c) Sunderbans d) Cone trees	
4.	Electronic goods industries can be found in _____ in India. a) Bengaluru b) Surat c) Madurai d) Kanpur	
5.	The _____ is responsible for the safety and security of its people. a) society b) watchman c) government d) constitution	
<b>Q2</b>	<b>Name the following :</b>	<b>(1x4=4)</b>
1.	A person who makes or grows goods is called a _____	
2.	Ashoka was the grandson of _____	
3.	The word paper come from _____	
4.	Chairman of the drafting committee of Indian constitution _____	
<b>Q3.</b>	<b>Correct the incorrect sentences and rewrite them:</b>	<b>(1x4=4)</b>
1.	Mountain soil is mainly found in areas of Karnataka, Kerala and Tamil Nadu.	
2.	Iron and steel are example of cottage industries.	

3. The constitution of India has given right to free and compulsory education to the children of 0 to 14 years of age.
4. Akbar had nine famous men in his court known as the nine rings or navagrahas.
- Q4. Analogy :** (1x4=4)
- Machines: durable goods :: milk : \_\_\_\_\_
  - Ashoka : \_\_\_\_\_ :: Akbar : Mughal dynasty
  - \_\_\_\_\_ : 112 :: Ambulance : 102
  - Asiatic Lions : Gir forest : \_\_\_\_\_ : Sundarbans.

**Q5. Identify the picture and mention the minerals present in them which are useful in our day to day life:** (1x4=4)




**Q6 In the given grid find out the types of soils found in India:** (6x1/2=3)

N	D	A	I	N	H	E	S	C	H
V	B	L	A	C	K	G	A	O	K
O	M	L	A	T	E	R	I	T	E
M	O	U	N	T	A	I	N	L	A
G	K	V	O	B	I	P	R	I	N
I	F	I	Q	A	A	R	E	N	Y
L	N	A	D	E	S	E	R	T	G
T	R	L	O	L	K	D	T	A	J

**Section B**

**QVII. Answer the following in one sentence:** (1x6=6)

- Define : Industries 1

2.	Where did the ancient Egyptian civilisation grew?	1
3.	What do you mean by the Right to constitutional Remedies?	1
4.	What is a market?	1
5.	Give Reason: Ashoka vowed never to fight wars.	1
6.	Rama wanted to go to abroad for higher studies he borrowed money from bank – Explain the concept.	1
<b>Section C</b>		
<b>QVIII</b>	<b>Answer the following in two to three sentence:</b>	<b>(2x5=10)</b>
1.	Differentiate between consumer goods and producer goods.	2
2.	List the two programmes government has launched to increase school enrolment and attendance from every section of the society.	2
3.	How does a producer decide what to produce? Explain with an example.	2
4.	Mention any two monuments built by Shah Jahan.	2
5.	Give Reason: Many Indus valley people were artisans and craft people.	2
<b>Section D</b>		
<b>QIX.</b>	<b>Answer the following briefly:</b>	<b>(3x5=15)</b>
1.	How do 3R's play an important role for conserving any natural resource.	3
2.	a)What are Directive principles. b) State any two Directive principles.	1 2
3.	List any three fundamental rights laid down in constitution of India.	3
4.	a)Give Reason : Evergreen forest remain green throughout the year. b)Where are evergreen forest found? c) Give two examples of evergreen trees.	1 1 1
5.	Differentiate between large scale and small scale industries.	3
<b>Section D</b>		
<b>QX.A</b>	<b>Identify the Civilization on the world map:</b>	<b>(1x2=2)</b>
		

<b>QX.B.</b>	<b>Locate the following on the political map of India:</b>	<b>(1x3=3)</b>
1	Kaziranga National Park	
2	Gir forest	
3	Periyar National Park	
	-----	

Name : \_\_\_\_\_ Class 4 Sec \_\_\_\_\_ Roll no : \_\_\_\_\_





SINDHI HIGH SCHOOL, BENGALURU  
ANNUAL EXAMINATION (2025-26)  
SUBJECT: COMPUTER SCIENCE



Name : \_\_\_\_\_

Roll No : \_\_\_\_\_

Class: 4 Sec: \_\_\_\_\_

No of Sides: 5

Max Marks : 30

Date: 13 - 03 - 2026

Reading Time: 10 mins

Writing Time: 1 hr

**General instructions:**

- Read all the Questions carefully.
- Answer all the Questions and write neatly.

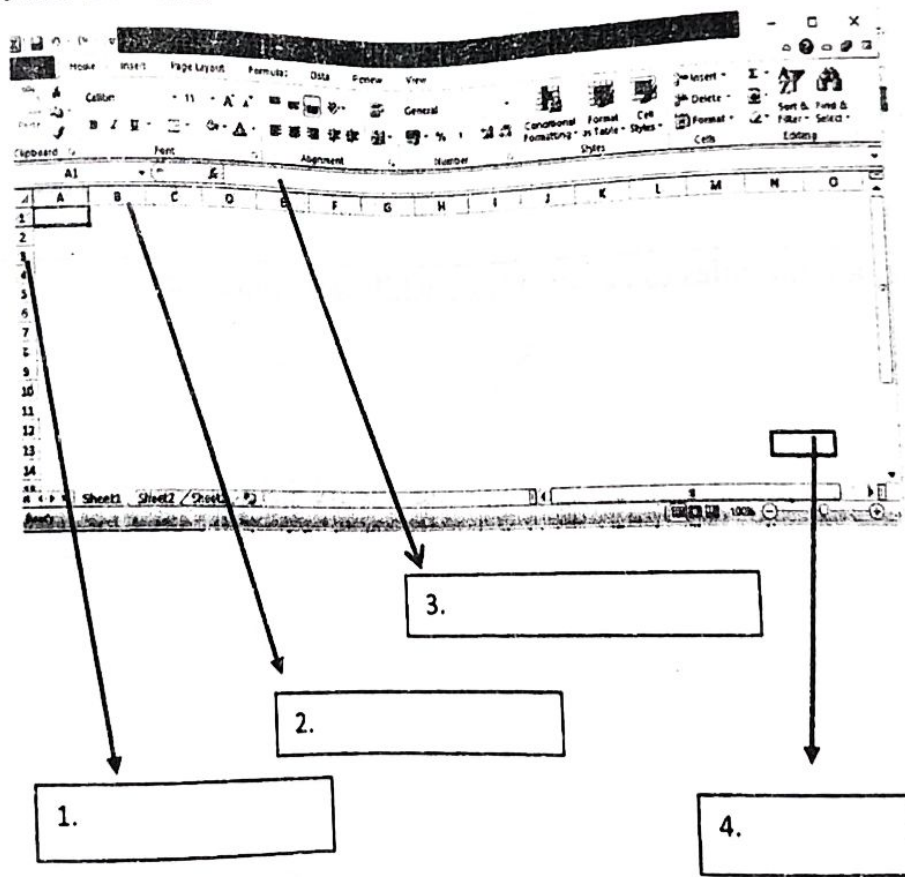
I	Fill in the blanks	1 x 5 = 5
1	The rows in MS Excel are identified by _____.	
2	_____ is a humanoid robot known for its realistic facial expressions and is able to interact with people.	
3	A _____ stores information that can change while playing a game.	
4	Game designers create games with clear _____ so players know what to achieve.	
5	_____ helps machines to think and make decisions.	
II	Multiple choice questions	½ x 6 = 3
1	Sorting in Excel helps us to: a) Delete data b) Arrange data in order c) Add numbers d) Draw charts	
2	What is MS Excel often compared to? a) A Calculator b) A video game c) A colourful drawing d) A big book with many page	

3	What do Mars rover robots explore? a) other planets c) Deep Underwater b) Factories d) Our homes	
4	In Pictoblox, what extension can you use for human pose and hand detection? a) Human Body Detection c) AI Magic b) Pose mania d) Body Tracker	
5	Artificial Intelligence is the intelligence shown by: a) Animals c) Plants b) Machines d) Teacher	
6	How do robots follow instructions? a) By listening to music c) By smelling objects b) By reading books d) By using code	
<b>III</b>	<b>Answer the following.</b>	<b>2x5=10</b>
1	What is Pen Extension? Name any two Pen Extension blocks.	2
2	Write any two advantages of robots.	2

3	What is Artificial Intelligence? Name few robots that use Artificial intelligence to work.	2
4	What is meant by variable? Name two variables used in games.	2
5	What are the rules to be considered while designing game?	2

<b>IV</b>	<p><b>Identify the Robot</b></p> <p>1. Clue: I help doctors perform operations with great accuracy. Answer: _____</p> <p>2. Clue: I can chat with you and answer your questions online. Answer: _____</p>	1 x 2 = 2
-----------	---	-----------

<b>V</b>	<p><b>Match the Following</b></p> <table style="width: 100%; border: none;"> <tr> <td style="width: 50%; vertical-align: top;"> <p><b>Column A</b></p> <ol style="list-style-type: none"> <li>1. Pie Chart</li> <li>2. Delivery robot</li> <li>3. Sorting</li> <li>4. Mars rover</li> </ol> </td> <td style="width: 10%; text-align: center; vertical-align: middle;"> <p>( )</p> <p>( )</p> <p>( )</p> <p>( )</p> </td> <td style="width: 40%; vertical-align: top;"> <p><b>Column B</b></p> <ol style="list-style-type: none"> <li>a. Delivers packages</li> <li>b. Shows parts of whole</li> <li>c. Explores space</li> <li>d. Arrange data</li> </ol> </td> </tr> </table>	<p><b>Column A</b></p> <ol style="list-style-type: none"> <li>1. Pie Chart</li> <li>2. Delivery robot</li> <li>3. Sorting</li> <li>4. Mars rover</li> </ol>	<p>( )</p> <p>( )</p> <p>( )</p> <p>( )</p>	<p><b>Column B</b></p> <ol style="list-style-type: none"> <li>a. Delivers packages</li> <li>b. Shows parts of whole</li> <li>c. Explores space</li> <li>d. Arrange data</li> </ol>	1/2 x 4 = 2
<p><b>Column A</b></p> <ol style="list-style-type: none"> <li>1. Pie Chart</li> <li>2. Delivery robot</li> <li>3. Sorting</li> <li>4. Mars rover</li> </ol>	<p>( )</p> <p>( )</p> <p>( )</p> <p>( )</p>	<p><b>Column B</b></p> <ol style="list-style-type: none"> <li>a. Delivers packages</li> <li>b. Shows parts of whole</li> <li>c. Explores space</li> <li>d. Arrange data</li> </ol>			

<b>VI</b>	<p><b>Name the elements</b></p> 	1 x 4 = 4
-----------	--	-----------

x 2 = 2

VII	Answer the following	
1	Which block tells the sprite to stop drawing? Answer: _____	1 x 4 = 4
2	Guess the Chart! I am round in shape and show slices. Who am I? Answer: _____	
3	Riya has entered marks of five subjects in MS Excel. She wants excel to automatically calculate the total. Which feature should she use? Answer: _____	
4	The sprite moves 10 steps with Pen Down block. What happens? Answer: _____	